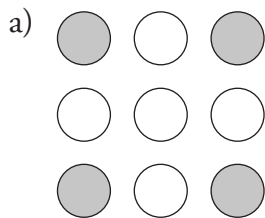


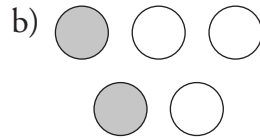
DIAGNOS RB3

Namn _____ Klass _____

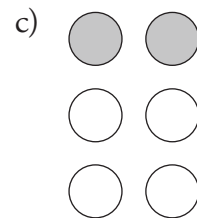
1 Hur stor andel av cirkarna är skuggade? Svara i bråkform.



Svar: _____



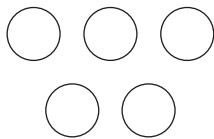
Svar: _____




Svar: _____

2 Skugga

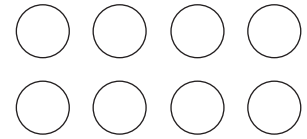
a) $\frac{3}{5}$ av cirkarna



b) $\frac{1}{3}$ av cirkarna



c) $\frac{3}{4}$ av cirkarna



3 Hur mycket är

a) hälften av 12? _____

b) en tredjedel av 6? _____

c) en femtedel av 10? _____

d) en fjärdedel av 8? _____

4 Hur mycket är

a) två tredjedelar av 6? _____

b) två tredjedelar av 9? _____

c) två femtedelar av 10? _____

d) tre fjärdedelar av 8? _____

DIAGNOS RB3

- 5** En pizza är delad i 6 bitar. Markus åt upp en tredjedel av pizzan.
Hur många bitar åt Markus?

Svar: _____ bitar.

- 6** I en skål låg det 12 karameller. Först åt Ola upp en tredjedel av karamellerna.
Sedan åt Lisa upp hälften av de karameller som var kvar.
Hur många karameller låg det sedan i skålen?

Svar: _____ karameller